


**Тема урока:
Задачи на нахождение
цены, количества,
стоимости товара**

14.01.2026г.





Мне, пожалуйста,
4 апельсина и один сок!



Чек

Товар	Цена за шт.	Количество
1. Сок	31 руб.	1 шт.
2. Апельсины	15 руб.	4 шт.

Стоимость: 91 руб.

Какова цена одного сока?

Сколько купили апельсинов?

Сколько заплатили за всю покупку?

Показывает, сколько стоит один товар.



Стоимость

Показывает, сколько товаров купили.



Цена

Показывает, сколько заплатили за всю покупку.



Количество




$$\text{Ц} = \text{С} : \text{К}$$

$$\text{К} = \text{С} : \text{Ц}$$

$$\text{С} = \text{К} \cdot \text{Ц}$$

Гриша решил купить четыре
мороженох, одно мороженое
стоит 224 рубля.
Сколько денег он потратит?






Соня купила пять конфет,
за всю покупку она
заплатила 165 рублей.
Сколько стоит
одна конфета?

За 3 килограмма апельсинов заплатили 180 рублей. Какова цена одного килограмма апельсинов?

Стоимость

Количество

Цену






$$\text{Ц} = \text{С} : \text{К}$$

$$\text{К} = \text{С} : \text{Ц}$$

$$\text{С} = \text{К} \cdot \text{Ц}$$

Гриша купил одинаковое количество одноразовых стаканчиков и тарелок — по 20 штук. За стаканчики Гриша заплатил 80 рублей, а за тарелки — 120 рублей. По каким ценам Гриша купил посуду?

	Цена	Количество	Стоимость
Стаканчики	? руб.	<input type="text"/> шт.	<input type="text"/> руб.
Тарелки	? руб.	<input type="text"/> шт.	<input type="text"/> руб.



**Придумайте задачу,
в которой нужно будет
найти цену, количество
и стоимость.**



Имя, фамилия _____

1. Соедини условие задачи с вопросом. Отметь, что нужно найти в задаче.Ба купила 3 одинаковые
сковородки на общую сумму
561 рубль.Сколько сковородок
купила Ба?

С К

Ба купила 3 одинаковые
сковородки по 187 рублей
за каждую.Сколько стоила одна
сковородка?

Ц С

Ба купила несколько
одинаковых сковородок
по 187 рублей. Всего
она потратила 561 рубль.Сколько рублей
она заплатила
за всю покупку?


С К

2. Заполни таблицу.

	Цена	Количество	Стоимость
Шоколадный торт	___ р.	7 шт.	861 р.
Кексы	345 р.	5 шт.	___ р.
Эклеры	7 р.	___ шт.	525 р.

3. Реши задачу.

У Гриши было 233 рубля, а у Сони — на 366 рублей больше. Сколько простых карандашей могут купить заврики, если цена одного карандаша — 8 рублей?



Ищите распечатки по школьной программе в сервисе "Подготовка к уроку" от Учи.ру.



1. Заполни таблицу.

	Цена	Количество	Стоимость
Тюльпаны	___ р.	6 шт.	3042 р.
Розы	574 р.	6 шт.	_____ р.
Пионы	70 р.	___ шт.	2450 р.

Домашнее задание:

